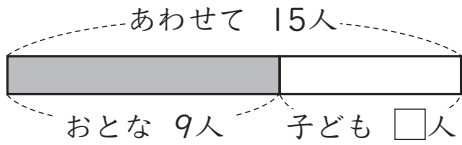


15 たし算とひき算

2年	組	番
名前		

1 下の図を見て ^ず答えましょう。



① おとなは ^{なんにん}何人 いますか。

<10点>

 人

② おとなと子どもをあわせると、何人ですか。

<10点>

 人

③ 子どもは何人 いますか。

<式20点, 答え10点>

しき

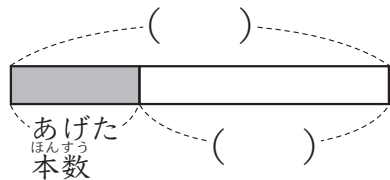
答え 人

2 つぎの もんだいを ^よ読んで 答えましょう。

えんぴつが 何本か あります。
8本 あげたので、のこりが
15本に なりました。
えんぴつは、はじめに 何本
ありましたか。

① 上の もんだいを、図に
あらわします。()に
あてはまる ことばを、

から えらんで、^き記ごうで
答えましょう。 <各10点>



- ㊦ もらった 本数
- ㊧ のこりの 本数
- ㊨ はじめの 本数

② えんぴつは、はじめに 何本
ありましたか。 <式20点, 答え10点>

しき

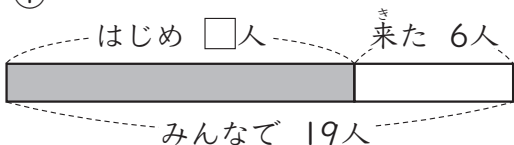
答え 本

15 たし算とひき算

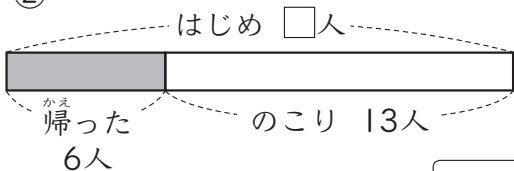
2年	組	番
名前		

1 つぎの ①, ②, ③の 図に 合う もんだいを, 右の から えらんで, 記号で 答えましょう。

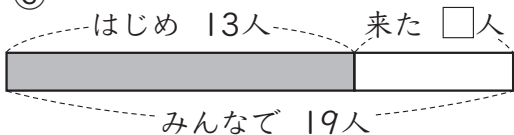
①



②



③



ア 校でいて 子どもが 13人 あそんでいます。そこへ 何人が 来たので, みんなで 19人になりました。

子どもは 何人 来ましたか。

イ 校でいて 子どもが 何人が あそんでいます。そこへ 6人 来たので, みんなで 19人になりました。

子どもは, はじめに 何人 いましたか。

ウ 校でいて 子どもが 何人が あそんでいます。6人 帰りました。まだ 13人 のこっています。

子どもは, はじめに 何人 いましたか。



「たし算とひき算」の 学しゅうを ふりかえりましょう。

1 あてはまる ものに ○を つけましょう。

①すすんで 学しゅうできましたか。

②さいごまで しっかりと 学しゅうできましたか。

2 学しゅうして 思った ことや もっと 学しゅうしたい ことを 書きましょう。

第15単元 たし算とひき算①

問題番号	配点	解 答(許容)
①	① 20	① 9
	② (各10)	② 15
	③ 30 (式20) (答10)	式 $15 - 9 = 6$ ($15 - 9, 9 + \square = 15$) 答 6
②	① 20 (各10)	上から, ㊦, ㊧
	② 30 (式20) (答10)	式 $8 + 15 = 23$ ($8 + 15, 15 + 8,$ $\square - 8 = 15$) 答 23

第15単元 たし算とひき算②

問題番号	解 答
①	① ㊧ ② ㊦ ③ ㊧