

平成12年度石川県保育士試験問題

社会福祉(その1)

[各問題の解答は、すべて解答用紙に書くこと。問題用紙も、かならず提出すること。]

1 次の文章の()の中にあてはまる語句を記入しなさい。(解答用紙に記入)

すべて国民は健康で(1)な(2)の生活を営む(3)を有する。国は、すべての(4)について、社会福祉、(5)、公衆衛生の向上及び増進に努めなければならない。 [日本国憲法より]

2 次の(1)~(5)に関係のある事項を下欄から一つ選び、その記号を解答用紙に記入しなさい。

- (1) 友愛訪問活動を実施。慈善事業の連絡調整。
- (2) 労働能力のある貧民の救済は独立自立している労働者の最低階層の労働・生活状態より実質・外見ともに低いものでなければならない。
- (3) 小学校通学区域を一地域として、救済を必要とする人びとの生活状況を調査。
- (4) イギリスにおける「社会保険および関連諸サービスに関する委員会報告」
- (5) 明治時代に設立された育児施設(現在の滝乃川学園)

ア 恤救規則	エ 方面委員制度	キ 慈善組織協会
イ ビバリッジ報告	オ 救護法	ク 石井十次
ウ 石井亮一	カ 劣等処遇の原則	ケ スピーナムランド制度

3 次に掲げる事項について、説明しなさい。(解答用紙に記入)

- (1) 身体障害者手帳
- (2) 療育手帳

4 次の文章で正しいものには○、誤っているものには×を解答用紙に記入しなさい。

- (1) 1947年には児童福祉法が、1949年には精神薄弱者福祉法が成立した。この2つの法律と生活保護法とをあわせて、いわゆる「福祉3法」体制が1950年までに確立した。
- (2) 1961年には、国民年金と現行の国民健康保険が実施され、すべての国民を何らかの年金保険、医療保険でカバーする国民皆年金・国民皆保険体制が実現した。
- (3) 1987年には、社会福祉士、介護福祉士というわが国初の福祉専門職資格が国家資格として制度化された。
- (4) 1992年、急速に進行する高齢化に対応するために、「高齢者保健福祉推進十か年戦略(ゴールドプラン)」が策定された。
- (5) 介護保険制度のサービスを利用できる人は65歳以上で「要介護」または「要支援」と認定された人のみである。

5 生活保護法にいう保護の種類を5つ解答用紙に記入しなさい。

受験番号

平成 12 年度石川県保育士試験問題

社会福祉(その2)

6 次に掲げる社会福祉施設の根拠になる法律名を解答用紙に記入しなさい。

- (1) 母子生活支援施設
- (2) 知的障害者更生施設
- (3) 肢体不自由児施設
- (4) 老人保健施設
- (5) 救護施設

7 ケースワークの過程において最初に行われる面接をインテークと言う。インテークの目的について述べなさい。(解答用紙に記入)

- (1)
- (2)
- (3)

8 次に掲げる事項について、簡潔に説明しなさい。(解答用紙に記入)

- (1) 介護支援専門員
- (2) 児童自立支援専門員
- (3) 作業療法士
- (4) 児童委員

9 次の(1)~(5)の中に下欄から適当な語句を選び、その記号を解答用紙に記入しなさい。

- (1) 国立社会保障・人口問題研究所の推計によれば、2050年には高齢化のピークを迎え、総人口の()%が65歳以上となる。
- (2) 母子及び寡婦福祉法において「児童」とは、()歳に満たない者をいう。
- (3) 「利用者システム」としての小集団に対応する援助活動における援助技術を()という。
- (4) 新ゴールドプランは、()、自立支援といった理念を明確に示している。
- (5) 福祉事務所はおおむね人口()万人当たり1か所設置することとされている。

ア 15	エ 20	キ 集団援助技術	コ ケースワーク
イ 利用者本位	オ 32.3	ク 10	サ 権利
ウ 自己実現	カ 18	ケ 地域援助技術	シ 23.7

10 社会福祉制度を取り巻く環境は、大きく変化しているがその中の一つをあげ説明しなさい。(解答用紙に記入)

受験番号

平成12年度石川県保育士試験問題

児童福祉(その1)

[各問題の解答は、すべて解答用紙に記入しなさい。]

1 次に掲げる児童・家族福祉に関連する施設・制度等の根拠となる法律名を書きなさい。

- (1) 幼稚園
- (2) 母子健康手帳
- (3) 保健所
- (4) 母子生活支援施設
- (5) 母子福祉資金の貸付け

2 次に掲げる説明文を示す用語を書きなさい。

- (1) 重度の知的障害及び重度の肢体不自由が重複している児童のこと。
- (2) 1989年に国際連合総会で採択され、1990年に発効し、わが国では1994年に批准し世界で158番目の締約国となった子どもの最善の利益等54条にわたって規定した国際条約。
- (3) 在宅の障害児などの介護の疲れから親や家族を解放するために、一時的にその障害児の介助を行なうことにより、家庭機能の維持と質的向上を図り、在宅生活が継続できるようにするための支援の一方法。
- (4) さまざまなショッキングな体験に遭遇することによってできた心の傷であり、その傷が時間の経過によって癒されることなく、その人の心理状態や精神の働きに著しい障害を引き起こしているものをいう。
- (5) 個人が、一生の間に、運命的に生みこまれ、結婚するまで育てられる家族のことで、親の保護・養育によって自己のパーソナリティーを形成する場である。

3 次に掲げる文章を読んで、正しいものには○印を、誤っているものには×印を記入しなさい。

- (1) わが国では、近年離婚率は減少傾向にあるが、有子離婚の比率には漸増傾向が見られる。
- (2) 保護者が保育所を選択するために、保育所の設備や運営等についての情報を提供する役割は、個々の保育所が担うべきであって、市町村は関与すべきではない。
- (3) 子どもを虐待している親と面接する時配慮すべきことは、虐待・放置等の事実をつきとめ、それが間違っていることをきちんと批判することである。
- (4) 保育所が、地域住民に対して乳幼児等の保育について相談に応じたり、助言したりすることは保育所本来の役割・機能を逸脱するものであり、好ましいことではない。
- (5) わが国では、登録里親数、児童が委託されている里親数、里親に委託されている児童数の何れもが、ほぼ一貫して減少傾向にある。

4 次のA群に掲げる用語に関係のある人物をB群の中から選んでその記号(a, b, c等)を記入しなさい。

《 A 群 》

- (1) 心理テスト
- (2) 被殴打児症候群
- (3) ノーマライゼーション
- (4) ケースワークの7原則
- (5) ステイグマ

《 B 群 》

- | | | | | | |
|---|--------|---|--------|---|--------|
| a | ロンブローゾ | b | ゴッフマン | c | フロイト |
| d | ビネー | e | リッチモンド | f | バイステック |
| g | ヒーラー | h | グリユック | i | ミッケルセン |
| j | ケンプ | | | | |

5 次に掲げる略語等について簡単に説明しなさい。

- (1) BBS
- (2) QOL
- (3) NPO
- (4) APDL
- (5) ADA

受験番号

--

平成12年度石川県保育士試験問題

児童福祉(その2)

6 次のA群に掲げる書物の著者をB群の中から選んでその記号(a, b, c等)を記入しなさい。

《 A 群 》

《 B 群 》

- | | | | |
|-----------------------|--------|--------|----------|
| (1) 『育ての心』 | a 高木憲次 | b 川島武宜 | c 小林美智子 |
| (2) 『児童虐待 ゆがんだ親子関係』 | d 和田 実 | e 宮本常一 | f 倉橋惣三 |
| (3) 『こども風土記』 | g 柳田国男 | h 高松鶴吉 | i 有賀喜左衛門 |
| (4) 『肢体不自由児の療育と児童福祉法』 | j 池田由子 | | |
| (5) 『日本社会の家族的構成』 | | | |

7 次に掲げる児童福祉法に関連する文章の()の中の事項等の中から正しいものを選択してその記号(①, ②, ③等)を記入しなさい。

- (1) 身体に障害のある児童に対し、生活の能力を得るために必要な医療を給付する制度は(①養育医療 ②育成医療 ③療育の給付)である。
- (2) (①児童委員 ②社会福祉主事 ③児童福祉司)は児童相談所長の命を受けて、児童の保護その他児童の福祉に関する事項について、相談に応じ、専門的技術に基づいて必要な指導を行う等児童の福祉増進に努める。
- (3) 都道府県は、(①身体障害者手帳 ②療育手帳 ③精神障害者保健福祉手帳)の交付を受けた児童に対し補装具の交付を行うことができる。
- (4) 保護者のない児童又は保護者に監護させることが不適切であると認める児童を発見した者は、これを福祉事務所若しくは(①保健所 ②警察署 ③児童相談所)又は児童委員を介して福祉事務所若しくは(上記括弧内に同じ)に通告しなければならない。
- (5) 少年とは小学校就学の始期から満(①20歳 ②18歳 ③16歳)に達するまでの者をいう。

8 次に掲げる児童福祉施設に配置する職員に関する文章を読んで、正しいものには○印を、誤っているものには×印を記入しなさい。

- (1) 乳児院は、医師が必置となっており、看護婦は任意配置でよい。
- (2) 保育所は、嘱託医が任意配置となっており、看護婦は必置となっている。
- (3) 児童養護施設は、児童指導員が必置となっており、保育士は任意配置でよい。
- (4) 肢体不自由児施設は、医療法に規定する病院として必要な職員、児童指導員、理学療法士又は作業療法士は必置となっており、保育士は任意配置でよい。
- (5) 児童自立支援施設は、児童自立支援専門員及び児童生活支援員が必置となっており、保育士はこの施設の職員となることはできない。

9 次に掲げる児童・家族福祉に関連する用語等について簡潔に説明しなさい。

- (1) 児童扶養手当
- (2) 少年院
- (3) 年少人口指数
- (4) 地域子育て支援センター事業
- (5) 孤食

10 少子化をもたらしている社会・経済的要因について簡潔に述べなさい。

受験番号

受験番号

平成 12 年度石川県保育士試験問題

児童心理学 (その1)

1 次を示した各用語について、下の記述群から正しいものをすべて選び、[] 内にその番号を記入しなさい。

(1) [] 具体的操作

1. 自分の思考そのものを思考することができ、予め周到な思考計画をたてることができる。
2. 可逆的思考が可能になり、いわゆる保存課題に正答することができる。
3. 具体的内容が異なると、論理的構造が同じ課題でも解けたり解けなかったりする。
4. ものを関連づけて考えることができるが、知覚によって思考が混乱してしまう。

(2) [] 観察学習

1. 他人の行動を見て、自分もその人と同じような行動をするようになる。
2. ほめられたり叱られたりして、望ましい行動が獲得される。
3. テレビドラマを見て、その登場人物と同じような行動パターンを獲得する。
4. ほめられている子どもを見て、その子どもと同じような行動をするようになる。

(3) [] 一次のことば

1. 児童期以降は使われない話しことば。
2. その場の状況の助けを借りずに使用され理解されることば。
3. まだ十分に社会化していない自己中心のことば。
4. ごく親しい人との間で多く交わされることば。

2 次の文の a～d の [] 内に挿入すべきもっとも適切な用語を、下の a～d の各語群から選択し、その番号を [] 内に記入しなさい。

乳幼児も、環境からの刺激を一方向的に受けるだけでなく、自ら環境に積極的に関わることができる。これをホワイトは a [] と呼んでいるが、伝統的動機づけ理論とは異なる動機づけがそれに関わっている。他方、子どもの発達、子どもが関わる環境の特性にも左右され、このような有能感を伸ばすには、b [] 環境が有効であると考えられる。例えば、乳幼児が示すさまざまなシグナルを上手に読みとる能力を c [] というが、この c [] に支えられた適切な反応を、子どもに d [] 返してやることが重要である。

- | | | | | | |
|-----|--------|------------|-------------|--------------|-----------|
| a 群 | 1. 応答性 | 2. コンピテンス | 3. 自律性 | 4. レディネス | 5. 初期動機づけ |
| b 群 | 1. 指導的 | 2. 刺激の多い | 3. 制約の少ない | 4. 整理された | 5. 応答的 |
| c 群 | 1. 理解性 | 2. 受容性 | 3. 敏感性 | 4. 感受性 | 5. 接近性 |
| d 群 | 1. 明確に | 2. タイミングよく | 3. 情報を豊かにして | 4. 暖かい雰囲気の中で | 5. 冷静に |

受験番号

--

平成12年度石川県保育士試験問題

児童心理学(その2)

3 次の各記述または用語について、もっとも関連のあるものを下の語群からひとつ選び、前の [] にその番号を記入しなさい。

[] 新しいことを理解するために、自分の知っているやり方で考えてみる。

1. 同化 2. 調節 3. シェマ 4. 動機づけ 5. 環境との相互作用

[] ジェンセンの環境閾値説

1. 発達はその環境要因の整備状況に依存する。
2. 発達には、環境要因が重要な役割を果たすが、それよりも成熟が重要な機能を果たす。
3. 発達するものによって、素質が環境要因の影響を受ける度合いが異なる。
4. 発達するものによって、遺伝要因と環境要因の関与の度合いが異なる。

4 子どもが自己をどのように認識するかについては、子どもの発達において一定の機能を果たしていると考えられる。幼児期、児童期を中心に、その主なものについて簡潔に説明しなさい。

5 子どもの発達にとって、遊びはどのような意味をもち、どのような機能を果たすと考えられるか。特に重要であると考えられる点を取り上げて、簡潔に述べなさい。

受験番号

平成 12 年度石川県保育士試験問題

精 神 保 健

1 次の文章を読んで正しいものには○、誤っているものには×を（ ）の中に記入しなさい。

- () (1) 多動性障害では知的発達の遅れに釣り合った多動を示す。
- () (2) 自閉症では意志伝達と想像上の活動(ごっこ遊び等)の欠陥がみられる。
- () (3) 乳児期の人見知りや分離不安は正常な母子関係の成立の証である。
- () (4) 児童虐待の概念に放置は含まれない。
- () (5) 前頭葉は倫理感・推理・意志等の機能を営んでいる。

2 次の行動を説明する適応機制の名称を語群の中から選びその符号を（ ）の中に記入しなさい。

- () (1) 攻撃性をスポーツや芸術活動を通じて解放する。
- () (2) いやな記憶や感情を無意識のなかに閉じこめる。
- () (3) 相手に対する自分の怒りを相手が怒っていると考える。
- () (4) 被虐待児が、愛され可愛がられている自分を夢想する。
- () (5) 運動能力に劣る子どもが運動会で1位になった兄を自慢する。

(語 群)

ア. 転移 イ. 抑制 ウ. 抑圧 エ. 白昼夢 オ. 昇華 カ. 投影 キ. 補償

3 次の人名と関係の深いものを一つだけ語群の中から選びその符号を（ ）の中に記入しなさい。

- | | | | |
|---------------|-------|-----------|------------|
| () (1) ビネー | (語 群) | ア. 精神分裂病 | カ. カウンセリング |
| () (2) ピアジェ | | イ. 予防精神医学 | キ. 幼児性欲論 |
| () (3) ロジャース | | ウ. 知能検査 | ク. 相互作用説 |
| () (4) ボウルビイ | | エ. 愛着理論 | |
| () (5) プロイラー | | オ. 箱庭療法 | |

4 登園拒否の進行経過とそのような子どもの保育上の留意点について述べなさい。

5 かみつきのみられる子どもの保育上の留意点について述べなさい。

受験番号

受験番号

平成 12 年度石川県保育士試験問題

保 育 原 理 (その 1)

(問 1 から問 6 までは、(その 2) の解答欄に記入すること。)

1 次の文の に該当することばを記入しなさい。(保育所保育指針より)

(1) 子どもは豊かに伸びていく、 ① をそのうちに秘めている。その子どもが ② を最もよく生き、望ましい ③ をつくり出す力の基礎を培うことが ④ である。

(2) 保育においては、保育士の ⑤ が子どもに大きな影響を与える。したがって、保育士は常に ⑥ などを通して、自ら、 ⑦ と ⑧ の向上に努める必要がある。

また ⑨ に裏付けられた知性と技術を備え、豊かな ⑩ と愛情を持って、一人一人の子どもに関わらなければならない。

2 次の文の に該当する人名を記入しなさい。

(1) フランスの近代教育の思想家 ① は当時の文明社会の退廃を批判して「自然にかえれ」と訴え「エミール」によって教育の理想として自然人を提示した。

(2) ② は「育ての心」や「幼稚園真諦」などの多くの書物によって今日の保育に多くの示唆を与えている。

(3) 理想的社会の実現をめざした ③ が、自分の経営する紡績工場に開設したのが「性格形成学院」である。

(4) ④ は、イタリアにおける最初の女性医学博士であり、知恵遅れの子どもの教育で大きな成果をあげたあと、ローマに「子どもの家」を創設し、幼児保育の実践的研究を進めた。

(5) ⑤ は、「幼稚園」と呼ばれる保育施設を創設し、それが世界各国の幼稚園の原形となった。

3 次の(1)~(10)のような発達の特徴に最も該当する年齢を数字で記入しなさい。

- | | | | |
|----------------|----------|-----------------|----------|
| (1) 言葉の発生 | (①) 歳児 | (6) 集団生活への適応の初歩 | (⑥) 歳児 |
| (2) 基本的生活習慣の形成 | (②) 歳児 | (7) 自主・協調の態度 | (⑦) 歳児 |
| (3) 自立・自信の態度 | (③) 歳児 | (8) 意欲的活動 | (⑧) 歳児 |
| (4) 表現活動の芽生え | (④) 歳児 | (9) 自立の態度 | (⑨) 歳児 |
| (5) 成就のよるこびの体験 | (⑤) 歳児 | (10) 生活範囲の拡大 | (⑩) 歳児 |

4 次の(1)、(2)に該当する児童福祉施設を記入しなさい。

(1) 養育環境に問題がある児童の施設

①

②

③

(2) 情緒・行動面に問題のある児童の施設

④

⑤

受験番号

--

平成 12 年度石川県保育士試験問題

保 育 原 理 (その 2)

5 次の文の に該当することばを記入しなさい。(保育所保育指針より)

保育の環境には、保育士や子どもなどの ①、施設や遊具などの ②、さらには、 ③ の事象などがある。そして、 ④、 ⑤、 ⑥ が相互に関連し合っ、子どもに一つの ⑦ をつくり出す。こうした環境により、子どもの ⑧ が安定し、 ⑨ が豊かなものとなるように計画的に環境を構成し、 ⑩ して保育をすることが大切である。

6 次の文は (ア) 保育計画と (イ) 指導計画のいずれかについて述べたものである。() に該当する記号を選びなさい。

- (1) 保育所における保育内容についての全体計画である。 (①)
- (2) 各年齢ごとにひとつ作成することを原則とする。 (②)
- (3) 最も長いものでも 1 年間のものであって、2 年以上にまたがるものを考えない。 (③)
- (4) 1 保育所にひとつ作成される。 (④)
- (5) 具体的、実践的計画であるから、各園、各クラスの現状に即したものでなければならない。 (⑤)

[解 答 欄]

1	①	②	③	④	⑤
	⑥	⑦	⑧	⑨	⑩
2	①	②	③	④	⑤
3	①	②	③	④	⑤
	⑥	⑦	⑧	⑨	⑩
4	①	②	③	④	⑤
5	①	②	③	④	⑤
	⑥	⑦	⑧	⑨	⑩
6	①	②	③	④	⑤

受験番号

--

平成 12 年度石川県保育士試験問題

保 育 原 理 (その 3)

7 「子どもの最善の利益を考慮した保育」を具体的にどう実践していけばよいか述べなさい。

8 次の保育形態について説明しなさい。

- (1) 自由保育
- (2) 設定保育
- (3) 縦割り保育
- (4) 解体保育
- (5) 統合保育

9 「保育の評価」について保育所保育指針の考え方をふまえて述べなさい。

10 「保育所における子育て支援」について述べなさい。

受験番号

平成12年度石川県保育士試験問題

教育原理

1 幼稚園と保育所の相違点をいくつか挙げ、説明しなさい。

2 2002年度から小・中学校で実施される「総合的な学習の時間」について簡単に説明しなさい。

3 教育について記述されている日本国憲法第26条です。()内に適当な言葉をいれなさい。

「すべて国民は、法律の定めるところにより、その()に応じて、()教育を受ける権利を有する。すべて国民は、法律の定めるところにより、その保護する子女に()教育を受けさせる()を負う。義務教育は、これを()とする。」

4 次の記述の内、間違っているものに×印をつけなさい。

- () (1) 「学校と社会」を著したのはコメニウスである。
- () (2) カリキュラムという概念は本来「競争路」を意味していた。
- () (3) わが国の義務教育制度が実現したのは教育基本法制定後である。
- () (4) 3R'Sとは読み・書き・計算のことである。
- () (5) 教育基本法は、社会教育についても言及している。

5 次の事項と関係のある人物を下のイ～ホから選び、()内に記号を入れなさい。

- () (1) エミール
- () (2) プログラム学習
- () (3) 産婆術
- () (4) 1年早産説
- () (5) 非指示的カウンセリング

イ. スキナー ロ. ロジャース ハ. ポルトマン ニ. ルソー ホ. ソクラテス

受験番号

受験番号

平成 12 年度石川県保育士試験問題

栄養学及び実習（その 1）

1 栄養素に関する記述である。正しいものには○印を、誤っているものには×印を（ ）内に記入しなさい。

- () (1) ビタミン A、C、E は、いずれも脂溶性ビタミンである。
- () (2) 膵液中には、たんぱく質分解酵素トリプシンが含まれる。
- () (3) 無機質は、体成分の約 5% で、最も多いのはリンである。
- () (4) 糖質は、筋肉や肝臓中にグリコーゲンとして含まれる。
- () (5) たんぱく質のアミノ酸組成は、その栄養価を決定する要因である。
- () (6) 水の機能に、体温調節作用がある。
- () (7) 食物繊維は、大腸がんの予防に役立つ。
- () (8) カルシウムは、骨や歯の構成成分である。
- () (9) ブドウ糖は、エネルギー源として 1 g あたり約 2 kcal を発生する。
- () (10) ヨードは、う歯の予防に効果がある。

2 脂質栄養に関する記述である。A 群と最も関係の深いものを B 群から選び、その記号を（ ）内に記入しなさい。

- | A 群 | B 群 |
|----------------------|-----------------------------|
| () (1) 効率的エネルギー源 | (a) ビタミン E・β-カロテン |
| () (2) トリグリセライド | (b) 血栓症の予防 |
| () (3) 魚油 | (c) α-リノレン酸・DHA |
| () (4) 一価不飽和脂肪酸 | (d) 約 9 kcal/g |
| () (5) n-3 系脂肪酸 | (e) グリセリンと脂肪酸のエステル |
| () (6) 必須脂肪酸 | (f) 飽和脂肪酸 |
| () (7) 抗酸化物質 | (g) 胆汁酸・VD ₃ の材料 |
| () (8) ドコサヘキサエン酸 | (h) オレイン酸 |
| () (9) 動物性脂肪（魚油を除く） | (i) アラキドン酸 |
| () (10) コレステロール | (j) 多価不飽和脂肪酸 |

3 鉄の機能に関する文章である。それぞれ最も適当な語句を下から選んで [] 内にその記号を入れなさい。

- (1) ヘモグロビン鉄は、[] の運搬に働いている。
- (2) ミオグロビン鉄は、[] での酸素の貯蔵所として働いている。
- (3) 酵素鉄（チトクローム、カタラーゼなど）は、生体内の [] に働いている。
- (4) 血清鉄は、鉄を [] する働きをしている。
- (5) 貯蔵鉄は、フェリチンとして肝臓、[]、骨ずいに含まれる。

- | | | | | |
|---------|--------|--------|----------|--------|
| (ア) 肺 | (イ) 筋肉 | (ウ) 酸素 | (エ) 酸化反応 | (オ) ゆ送 |
| (カ) 赤血球 | (キ) 腎臓 | (ク) 貯蔵 | (ケ) 脾臓 | |

受験番号

平成 12 年度石川県保育士試験問題

栄養学及び実習（その 2）

4 冷凍母乳を使用する場合の留意点を述べなさい。

5 第 6 次改定の日本人の栄養所要量に関する記述である。文中 の中に適当な語句を下から選び、その記号を記入しなさい。

- (1) 過剰摂取による健康障害を予防する観点から、栄養素摂取量等の最大限の量を とした。
- (2) 乳児のエネルギー所要量は、健康な乳児が摂取する から推定する。
- (3) 食物繊維については、目標量として、幼児期では あたり 10 g を目安とした。
- (4) 乳児期（0～5 か月児）のたんぱく質所要量は、 のたんぱく質摂取の実態を基礎に算出された。
- (5) 幼児期（3～5 歳）の貧血を防止するため、鉄 と、鉄保留量からの必要量を基礎にした。

- | | | | | |
|---------------|-------------|-----------|---------------|------------|
| (ア) 人工栄養児 | (イ) 許容上限摂取量 | (ウ) 摂取量 | (エ) 消費量 | (オ) エネルギー量 |
| (カ) 1,000kcal | (キ) 適正量 | (ク) 母乳栄養児 | (ケ) 1,500kcal | (コ) 食事摂取基準 |

6 幼児期の食生活上の問題点のうち、以下について説明しなさい。

(1) 食欲不振

(2) 孤食

受験番号

受験番号

平成 12 年度石川県保育士試験問題

栄養学及び実習（その 3）

7 次の文章のうち、正しいものには○印を、誤っているものには×印を（ ）内に記入しなさい。

- () (1) 初乳は、成熟乳よりたんぱく質と無機質含量が少ない。
- () (2) 成熟乳は、乳児の腸内に乳酸菌の繁殖を促す作用がある。
- () (3) 人乳は、牛乳より乳糖が少ない。
- () (4) 育児用粉乳は、たんぱく質とくにカゼインを減じてある。
- () (5) フォローアップミルクは、育児用粉乳に比べ、たんぱく質と無機質が多く脂肪も多い。
- () (6) 離乳とは、乳汁栄養から幼児食に移行する過程をいう。
- () (7) 離乳の完了は、形のある食物をかみつぶすることができる状態ではあるが、栄養素摂取の大部分は未だ乳汁からである。
- () (8) 離乳食の味つけは、うす味を心がける。
- () (9) 1 回の授乳時間は、25～30分ぐらいが適当である。
- () (10) 母乳の分泌は、乳児の吸せつ刺激によるホルモンの作用による。

8 次の語句を簡単に説明しなさい。

(1) ベビーフード

(2) 食物アレルギー

受験番号

平成 12 年度石川県保育士試験問題

栄養学及び実習（その 4）

9 食品の栄養特性について、A 群の語句と最も関係の深いものを B 群からと、C 群から選んでその記号を（ ）内に記入しなさい。

B	C	A 群	B 群	C 群
()	・	(1) トマト	(a) でんぷん	(ア) カロチン
()	・	(2) 豚肉	(b) 食物繊維	(イ) 5'-グアニル酸
()	・	(3) 米	(c) 緑黄色野菜	(ウ) 麦芽糖
()	・	(4) さつまいも	(d) エルゴステロール	(エ) ブドウ糖
()	・	(5) きのこと	(e) ビタミンB ₁	(オ) リン脂質
()	・	(6) 卵黄	(f) ソラニン	(カ) ビタミンD
()	・	(7) ジャガイもの芽	(g) レシチン	(キ) カルシウム
()	・	(8) しいたけ	(h) ビタミンC	(ク) コレステロール
()	・	(9) 牛乳	(i) たんぱく質	(ケ) 不飽和脂肪酸
()	・	(10) 大豆	(j) ビタミンB ₂	(コ) 毒成分

10 加熱調理の特性を述べなさい。

受験番号

--

平成12年度石川県保育士試験問題

看護学及び実習（その1）

〔各問題の解答は、すべて解答用紙に記入しなさい。〕

1 与薬について正しいのはどれか。1つ選びなさい。

- ① 液剤（液状の薬）は水で薄めて与える。
- ② 散剤（粉薬）はミルクに混ぜて飲ませる。
- ③ 3歳くらいまでは、錠剤を飲み込むことは困難である。
- ④ 坐薬は少しやわらかくしてから肛門に入れる。

2 次の組合せで正しいものはいくつあるか。数を書きなさい。

- ① 1歳 ————— 4つの積み木を重ねて塔をつくる
- ② 1歳6か月 ————— つたい歩きができる
- ③ 9～10か月 ————— 支えると少しの間坐っている
- ④ 4～7か月 ————— イナイ・イナイ・バアを喜ぶ
- ⑤ 2か月 ————— 乳を飲む時は哺乳瓶に手が触れている

3 誤っているのはどれか。1つ選びなさい。

- ① 視覚障害のある幼児に話しかける場合は、肩に手を触れて話すと有効である。
- ② 聴覚障害のある子どもは、ルールのある遊びへの参加は困難である。
- ③ 弱視児は天候によって見え方が異なるので、雨や曇りの日は照明に気をつける。
- ④ 視聴覚に障害のある子どもへの指示は、見えやすく、聞こえやすい位置で行なう。

4 咳がでる時の看護について正しいものはいくつあるか。数を書きなさい。

- ① 部屋は乾燥している方が咳は出にくい。
- ② 激しい咳がつづく時は臥位より座らせた方がよい。
- ③ 咳き込む時はそばにいて話しかけたり、背中をさすったりする。
- ④ 咳がひどい時は、水分をなるべく控える。
- ⑤ 年長児では、手やハンカチで口をおおったり、マスクをかけるよう指導する。

5 鼻出血の看護について誤っているのはどれか。1つ選びなさい。

- ① 鼻に詰めてあるものは頻回にかえる。
- ② 鼻の上からぬれたタオルで冷やす。
- ③ 食事は血がとまってから与える。
- ④ 多くは5～10分で止血する。

受験番号

受験番号

平成12年度石川県保育士試験問題

看護学及び実習（その2）

6 正しいものに○、誤っているものに×をつけなさい。

- ① 2歳半ごろには付き添っていれば1人で排尿できる。
- ② おむつをあてる際は両下肢を引っ張って伸展位をとる。
- ③ おむつは、おへその上まで被るようにする。
- ④ おむつ離れのしつけは、なるべく早い時期から行なう。
- ⑤ 昼寝中の「おもらし」は、他の子どもに気づかれないように始末する。

7 誤っているのはどれか。1つ選びなさい。

- ① 気温が高くなると小児では体温が上昇することがある。
- ② 腋窩が湿っている時は拭いてから体温計を入れる。
- ③ 乳児の体温は37℃～38℃である。
- ④ 体温計は腋窩の中央よりやや前方に入れる。

8 発疹の看護で正しいものはいくつあるか。数を書きなさい。

- ① 伝染性の疾患であることが多い。
- ② 単なる皮膚の病気であることが多い。
- ③ アトピー性皮膚炎は、ウイルスによる。
- ④ 発疹以外に現われる症状に気をつける。
- ⑤ 子どもでは発疹を伴う病気が多い。

9 子どもの事故について、正しいものに○、誤っているものに×をつけなさい。

- ① 保育所では雨天の日に多い。
- ② 保育所の屋外では遊具とその周辺で多い。
- ③ 負傷の種類では切傷、裂傷、挫傷、擦過傷が多い。
- ④ 部位では、頭部と顔面の負傷が多い。
- ⑤ 1～4歳の幼児の死亡原因では溺死が一番多い。

10 誤っているのはどれか。1つ選びなさい。

- ① 擦過傷は傷を水道水できれいに洗い流す。
- ② 切傷は傷の程度にもよるが、まず止血する。
- ③ 頭部外傷では状態の観察と安静が大切である。
- ④ 熱傷ではまず軟膏を塗布する。

受験番号

平成 12 年度石川県保育士試験問題

保健衛生学(その1)

1 我が国の以下の記述で正しいものに○、誤っているものに×を()内に記入しなさい。

- () (1) 総人口は約1億2千万人である。
() (2) 人口ピラミッドは釣り鐘型である。
() (3) 年少人口(15歳未満人口割合)は20%である。
() (4) 人口密度は世界最高である。
() (5) 近年の合計特殊出生率(粗再生産率)は1.3~1.4である。
() (6) 0歳では不慮の事故が死因順位の第1位である。
() (7) 1~4歳の幼児の不慮の事故死亡の中で最も多いのは交通事故である。
() (8) 0~4歳の受療率で最も多いのは急性上気道感染症である。
() (9) 0~14歳の一般診療医療費で最も多いのは悪性新生物である。
() (10) 平均寿命は世界で最も長い。

2 下記の設問の中で正しいものを2つ選び、その記号を()の中に記入しなさい。

(1) 母子保健の水準を示す指標はどれか。

- ア. 従属人口指数 イ. PMI ウ. 出生順位別出生率 エ. 周産期死亡率 オ. 新生児死亡率

() ()

(2) 母子保健法で行われているのはどれか。

- ア. 未熟児療育医療 イ. 乳幼児健康診査 ウ. 育成医療 エ. 就学時健康診査 オ. 小児慢性特定疾患

() ()

(3) 予防接種法で定期接種の対象疾患はどれか。

- ア. 麻疹 イ. 水痘 ウ. インフルエンザ エ. 流行性耳下腺炎 オ. 破傷風

() ()

(4) 第2類感染症はどれか。

- ア. 腸管出血性大腸菌感染症 イ. 急性灰白髄炎(ポリオ) ウ. 細菌性赤痢 エ. インフルエンザ
オ. ウイルス肝炎

() ()

(5) 糞便から感染するのはどれか。

- ア. ポリオウイルス イ. アニサキス症 ウ. オウム病 エ. 日本脳炎 オ. A型肝炎

() ()

受験番号

--

平成12年度石川県保育士試験問題

保健衛生学(その2)

3 次の各文章の()の中に適切な語句を埋めなさい。

- (1) 大気中の()濃度の増加は地球温暖化の原因となる。
- (2) オゾン層の減少により地表の()が増加したことで、皮膚癌や白内障の増加が懸念されている。
- (3) 水質汚染の指標である()は水中の有機物が好気性微生物により酸化分解するのに消費される酸素量をいう。
- (4) 一般に快適と感じる温度は()℃である。
- (5) 大気汚染物質により慢性気管支炎に代表される慢性()性呼吸器疾患が引き起こされる。

4 応急処置に関する以下の設問に簡単に答えなさい。

(1) 2歳の女児、電気コンロに上腕がふれて、その部に数センチの発赤ができています。水疱はできていない。まずしなければならない応急措置はなにか。

(2) 3歳の男児、トイレの洗浄剤(酸性化学物質)を誤飲した。医師に連れて行く前にまずしなければならない処置はなにか。

5 5歳の男児、庭で遊んでいるときに古い釘を踏んで刺し傷となった。幸い浅い傷であったので消毒薬で消毒を行った。次に確認しなければならないことはなにか。

受験番号

平成12年度石川県保育士試験問題

生 理 学 (その1)

1 次の文章のうち、正しいものには○印を、誤っているものには×印を()内に記入せよ。

- () (1) 火傷や微生物感染などの原因で溶血を生じる事はない。
- () (2) 白血球には顆粒球、単球、リンパ球があり、酸素の運搬に重要な役割を果たしている。
- () (3) 新生児期から乳児期では白血球数は多く、以後漸減し、学童期から思春期に成人値となる。
- () (4) 血漿たんぱくはその物理化学的性質によりアルブミン、レシチンおよびフィブリノーゲンに大別される。
- () (5) 細胞組織レベルでの血液ガス交換を内呼吸という。
- () (6) 肝臓では肝動脈のほかに門脈があり、吸収した栄養分を含む血液が消化管から集まって肝に流入する。
- () (7) 大脳半球の後頭葉後極には聴覚領が、側頭葉外側溝には視覚領が、前頭葉下面の嗅脳には嗅覚領がある。
- () (8) 胃の主な機能は、ペプシンによるタンパク分解、胃酸によるタンパクの変性、エリスロポエチンの分泌などである。
- () (9) 糸球体は腎動脈から分岐しており、血圧が変動した場合に影響をうけやすい。
- () (10) ポンプ活動をする心筋の血液供給にあたっているのは、左房左室領域は大動脈であり、右房右室領域は肺動脈である。

2 A群の語句に最も関係の深い語句をB群から選び、その記号を()に記せ。

A 群

B 群

- | | | |
|---------------|-----|-----------|
| (1) 脳下垂体前葉 | () | ア ペプシノーゲン |
| (2) 膵ランゲルハンス島 | () | イ 抗利尿ホルモン |
| (3) 脳下垂体後葉 | () | ウ サイロキシン |
| (4) 主 細 胞 | () | エ 成長ホルモン |
| (5) 甲 状 腺 | () | オ グルカゴン |

受験番号

--

平成 12 年度石川県保育士試験問題

生 理 学 (その 2)

3 次の各文章の () の中から適する語句を選び○で囲みなさい。

- (1) B細胞から分化、成熟した形質細胞は (免疫グロブリン、ビリルビン、カルシトニン) を生産分泌する。
- (2) 左右の心房と心室の間にはそれぞれ (僧帽弁、大動脈弁、肺動脈弁) と三尖弁がある。
- (3) 唾液中の酵素の中にはアミラーゼと (ペプシノーゲン、リパーゼ、ブラジキニン) がある。
- (4) 肺のガス交換時にガス分圧の高い方から低い方へガス交換がなされる。これを (収縮、浸透、拡散) という。
- (5) 循環カテコールアミンは (パラソルモン、アドレナリン、プロスタグランディン) およびノルアドレナリンの 2 種類がある。

4 次の語句を簡単に説明せよ。

(1) 眼の構造

(2) 自律神経の種類と作用

5 糸球体の構造と機能について説明せよ。

受験番号

平成12年度石川県保育士試験問題

保育実習

1 次の文章の()の中に適切な語句を記入しなさい。

- (1) 指導計画をたてる時、ねらいと内容は()的視点及び()的視点から設定、選択する。
- (2) 子どもたちの歌や器楽演奏を伴奏する場合のポイントとして、・呼吸を整える・()を整えていく・不確かな()を矯正していく・強弱など()を豊かにしていくなどがあげられる。

2 絵本に関する保育の内容の発達課程区分を下記の中より選びなさい。

- () 絵本、童話、視聴覚教材などを見たり聞いたりして、イメージを広げ、言葉を豊かにする。
- () 絵本、玩具などに興味をもって、それらを使った遊びを楽しむ。
- () 絵本や玩具、身近な生活用具が用意された中で、身の回りの物に対する興味や好奇心が芽生える。
- () 絵本、童話、視聴覚教材などを見たり、聞いたりして様々なイメージを広げるとともに、想像することの楽しさを味わう。
- () 絵本や紙芝居を楽しんで見たり聞いたりし、繰り返しの言葉の模倣を楽しむ。

ア 6か月未満児	イ 6か月～1歳3か月未満児	ウ 1歳3か月～2歳未満児		
エ 2歳児	オ 3歳児	カ 4歳児	キ 5歳児	ク 6歳児

3 こどもの描画表現の特徴を5つあげなさい。

- (1) (2) (3)
- (4) (5)

4 障害児の指導(援助)－問題行動を中心として－をする場合のとらえ方等ポイントを箇条書きで述べなさい。

5 3歳児30名を保育士2名で担当しています。どろんこ遊びをする場合、準備から片付けまでどんな援助や配慮事項のもとで活動を進めていきますか。

受験番号


--

平成 12 年度石川県保育士試験問題


保 育 実 習 (絵 画 制 作 関 係 技 術)

- 1 子どもに画用紙を使ってお面を作ろうと思います。そのお面の図案を5つの動物(犬、猫、馬、猿、狼)について描いてください。
使用する描画素材は鉛筆とし、下に示された□の中からはみださないように気を付けてください。


犬




猫




馬



猿



狼



- 2 別に配布される水色の画用紙(A4サイズ)に、5~6歳児の保育室に展示する「8月の壁面装飾」の図案をクレヨンで描きなさい。なお、鉛筆で下書きをしてもよい。

*画用紙の裏に受験番号を忘れず記入してください。

受験番号

--